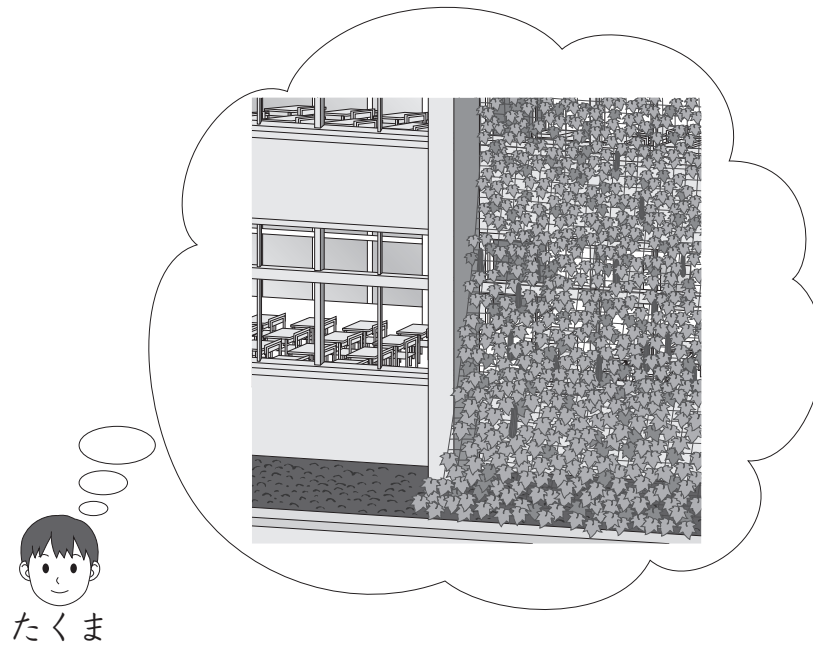




## 4

たくまさんの学級では、夏をすずしく過ごすために、へちまを育てて、緑のカーテンを作ることになりました。緑のカーテンとは、窓の外に植えたへちまなどの植物で、日ざしをさえぎるようにしたものです。



(1) たくまさんたちは、種を何個まくかを考えています。

去年は、種を 50 個まきました。そのうちの 40 個から芽が出ました。

まいた種 50 個の図  に対して、芽が出た種 40 個を表している図  はどれですか。下の **ア** から **エ** までの中から 1 つ選んで、その記号を書きましょう。

また、芽が出た種 40 個は、まいた種 50 個の何%ですか。答えを書きましょう。

