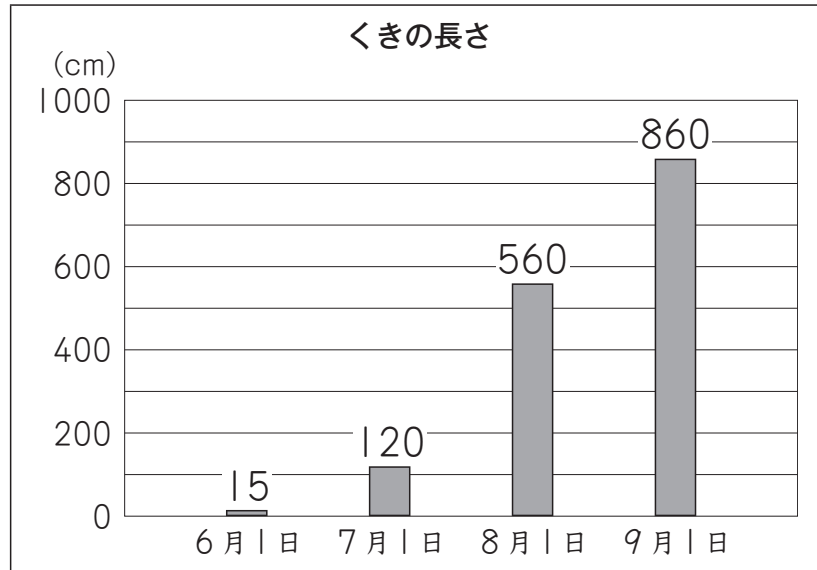


(2) たくまさんたちは、へちマの成長の様子について知りたいと思い、次のように、へちマのくきの長さをグラフに表し、話し合っています。



たくま

くきの長さは、9月1日が、いちばん長いですね。くきは、8月1日から9月1日までが、いちばんのびたということかな。



あやね

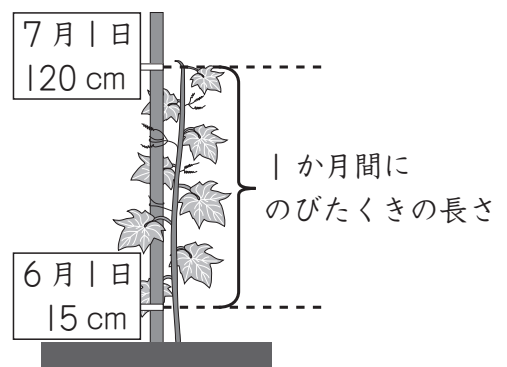
本当にそうかな。くきは、7月1日から8月1日までが、いちばんのびたのではないのでしょうか。

1か月間にのびたくきの長さがわかるように、グラフに表しましょう。

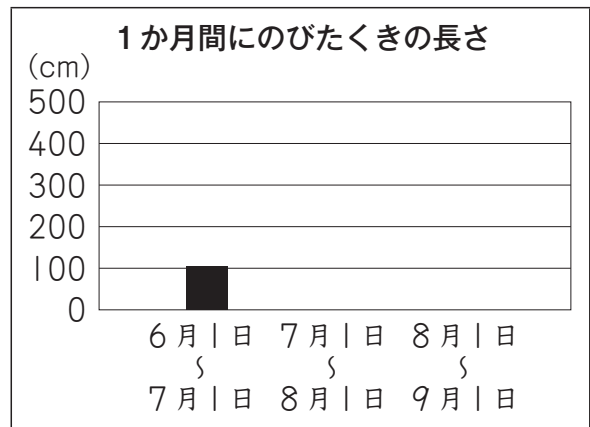
あやねさんは、上のグラフを見て、まず、6月1日から7月1日までにのびたくきの長さを、下のように入りました。

【あやねさんの考え】

6月1日から7月1日までにのびたくきの長さは、 $120 - 15 = 105$ で、105 cm です。



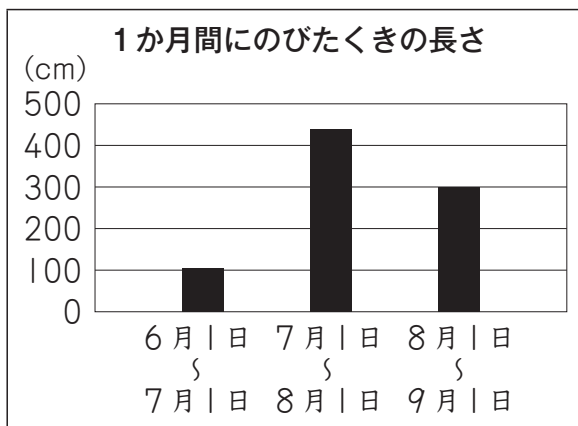
あやねさんは、右のように、
1か月間にのびたくきの長さを
グラフに表しています。



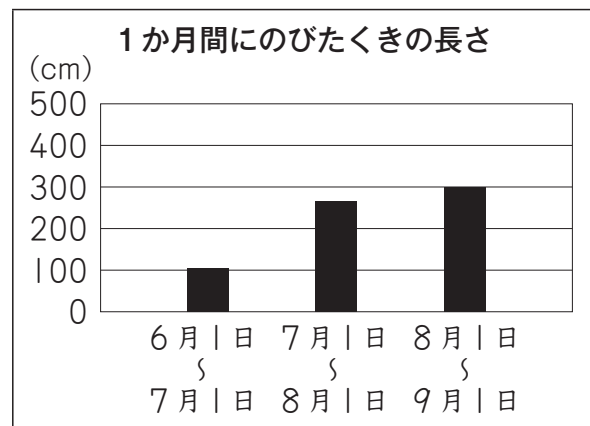
【あやねさんの考え】をもとに、7月1日から8月1日までと、
8月1日から9月1日までのにのびたくきの長さも求めて、上のグラフを
完成させると、どのようなグラフになりますか。

下の **1** から **3** までの中から1つ選んで、その番号を書きましょう。
また、その番号を選んだわけを、言葉や式を使って書きましょう。

1



2



3

