



- (3) ヘチマが育ち、たくまさんの教室が緑のカーテンにおおわれてから、たくまさんは、すずしいと感じるようになりました。

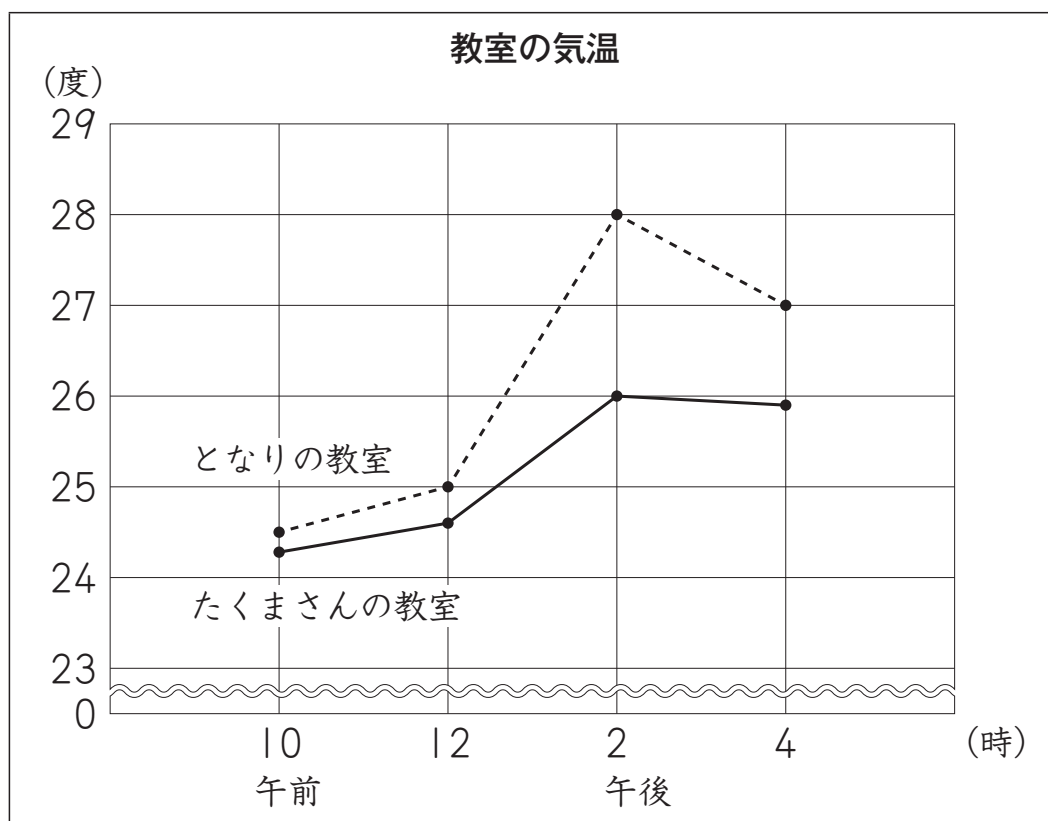
そこで、たくまさんの教室と、緑のカーテンがないとなりの教室について、同じ日の午前10時から午後4時までの2時間ごとの気温を調べ、右のグラフに表しました。



たくまさんの教室



となりの教室



午前 10 時から午後 4 時までの 2 時間ごとに調べた気温について、上のグラフからどのようなことがわかりますか。

下の **ア** から **エ** までの中から 1 つ選んで、その記号を書きましょう。

ア 午前 10 時から午前 12 時まで、どちらの教室も、気温が下がっている。

イ 午前 12 時から午後 2 時まで、たくまさんの教室のほうが、となりの教室よりも、気温の上がり方が小さい。

ウ 午後 4 時が、どちらの教室も、気温がいちばん高い。

エ どの時刻も、となりの教室のほうが、たくまさんの教室よりも、気温が低い。