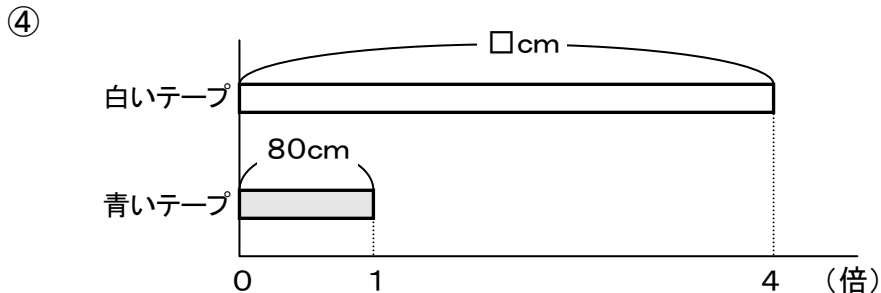
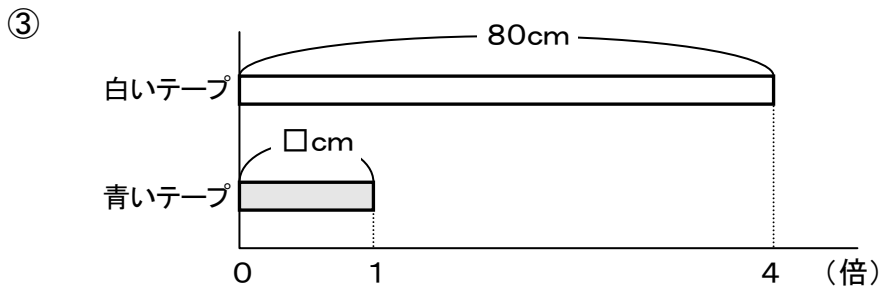
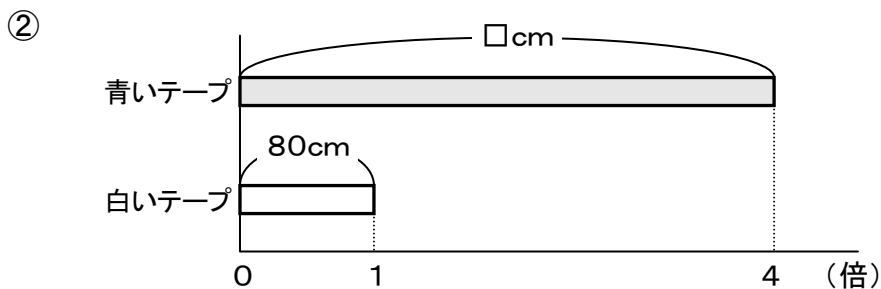
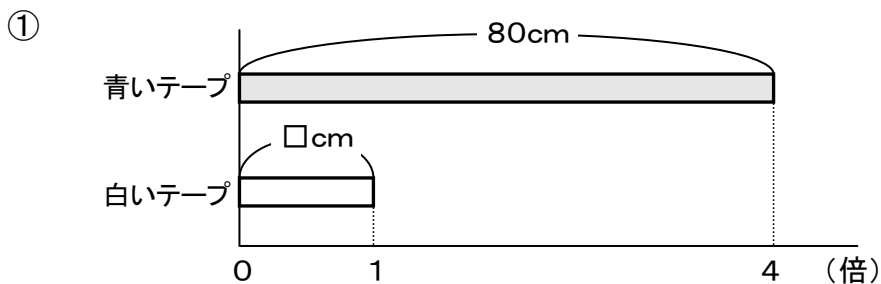


3

白いテープと青いテープがあります。その長さについて、次のことがわかっています。

白いテープの長さは80cmです。  
 白いテープの長さは、青いテープの長さの4倍です。

(1) 2本のテープの長さの関係を図で表すとき、次の①から④のどの図が正しいですか。正しい図の番号を書きましょう。



(2) 青いテープの長さを求める式を書きましょう。  
 ただし、計算の答えを書く必要はありません。