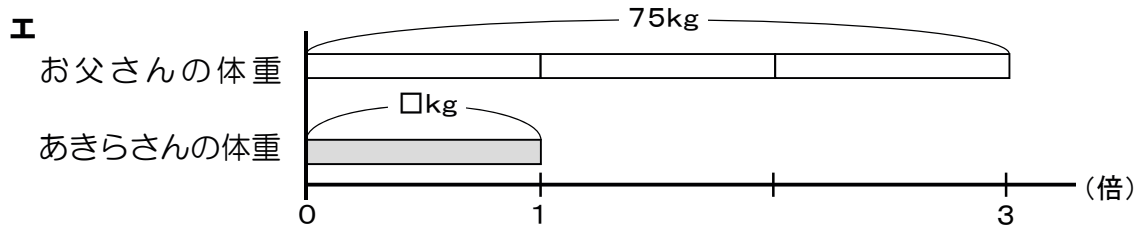
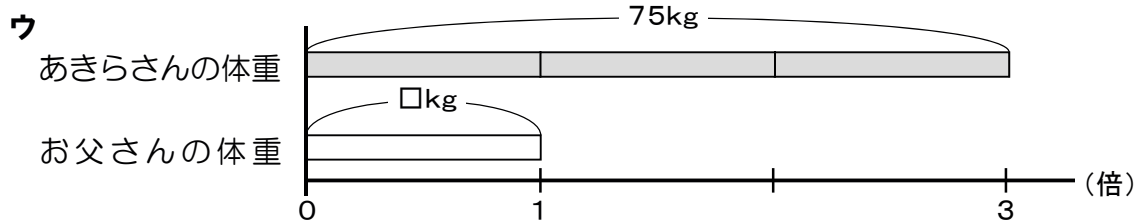
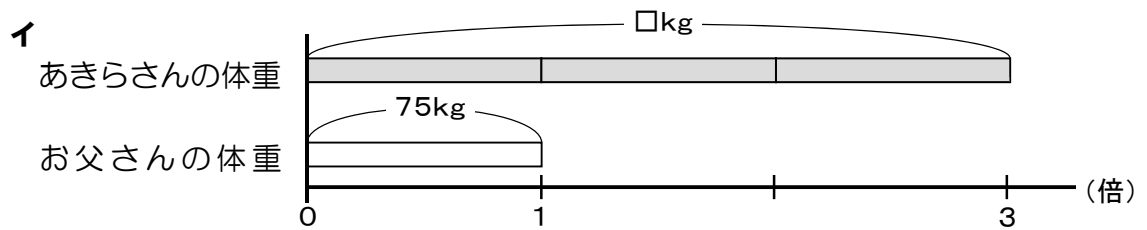
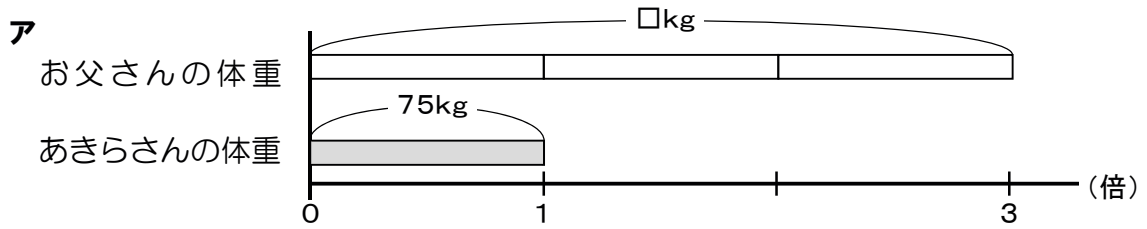


4

あきらさんとあきらさんのお父さんの体重について、下のことがわかっています。

あきらさんのお父さんの体重は、75kgです。
あきらさんのお父さんの体重は、あきらさんの体重の3倍です。

(1) 2人の体重の関係を図で表すとき、下の**ア**から**エ**のどの図が正しいですか。正しい図の記号を書きましょう。



(2) あきらさんの体重を求める式を書きましょう。
ただし、計算の答えを書く必要はありません。