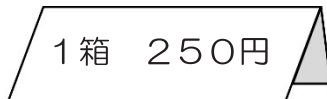
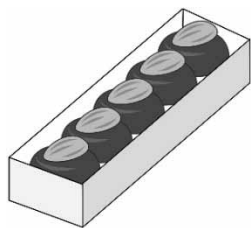


(2) 花子さんとたろうさんは、2人でお店にチョコレートを買に行きました。

1箱5こ入りのチョコレートが250円で売られています。



30このチョコレートを買うにはいくらかかるか、花子さんとたろうさんは、次のように考えました。



花子さん

チョコレート1このねだんを考えると、  
 $250 \div 5 = 50$   
 チョコレート30このねだんは、1こ50円の30倍だから、  
 $50 \times 30 = 1500$   
 だから、1500円 必要です。

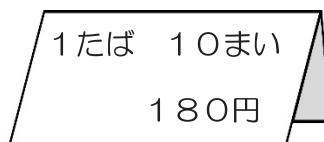


たろうさん

30こ買うには、1箱5こ入りのチョコレートが何箱いるかを考えて、  
 $30 \div 5 = 6$   
 1箱250円のチョコレートを6箱買うので、  
 $250 \times 6 = 1500$   
 だから、1500円 必要です。

さらに、2人は、かざりに使うための折り紙を買うことにしました。

折り紙は、1たば10まいが180円で売られています。



折り紙を50まい買うと、いくらになるでしょうか。

チョコレートのねだんを求めたときの花子さん、たろうさんのどちらかの考え方を使って、折り紙50まいの代金の求め方を、言葉や数、式を使ってかきましょう。