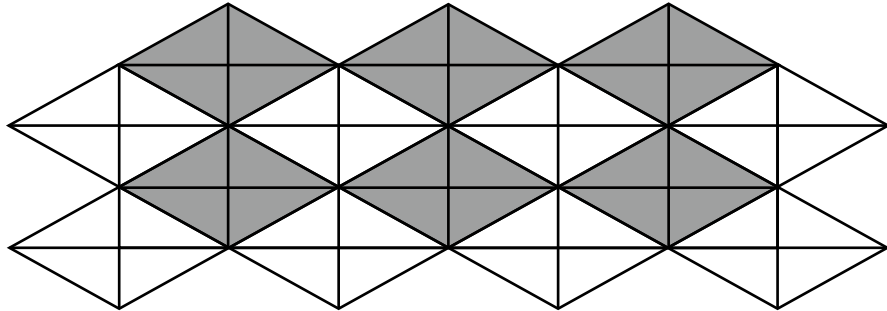


(2) とおるさんとそうたさんも、ゆうこさんが使ったものと同じ直角三角形の色板をしきつめて、もようを作りました。



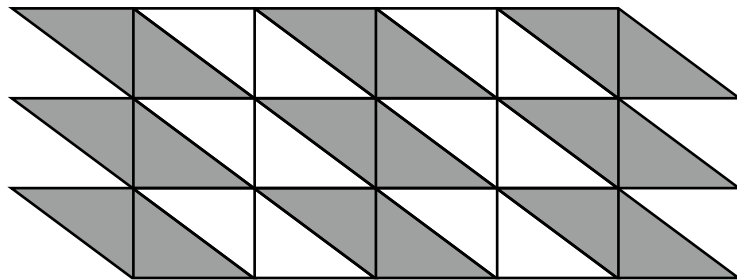
とおる

ひし形のもようができたよ。



そうた


平行四辺形のもようになったよ。



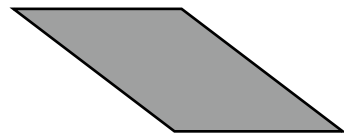
ゆうこさんたち3人は、長方形、ひし形、平行四辺形の特ちょうについて話し合いました。3つの図形すべてにあてはまる特ちょうを、下の**1**から**4**の中から1つ選んで、その番号を書きましょう。



長方形



ひし形



平行四辺形

- 1 2本の対角線は垂直である。
- 2 2本の対角線はそれぞれの真ん中の点で交わる。
- 3 4つの角の大きさはすべて等しい。
- 4 向かい合った角の大きさの和は 180° である。