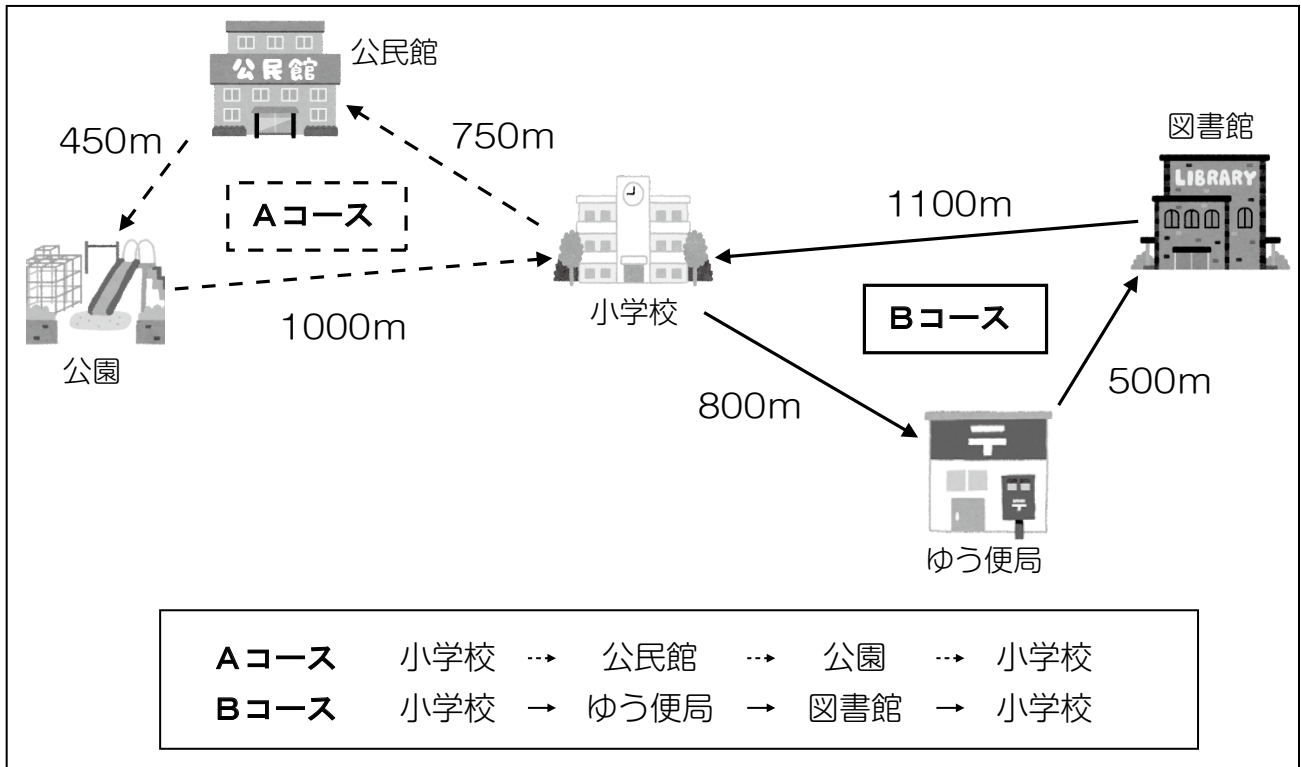


3

だいすけさんの学級では、^{かんきょう}環境問題について学習し、自分たちにできる取組について考えています。


- (1) だいすけさんたちは、住んでいる町に空きかんやペットボトルなどが落ちていることに気づきました。そこで、下の2つのコースを考え、**Aコース**と**Bコース**に分かれて、ごみ拾いをすることにしました。

2つのコースと道のり


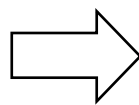


Aコースと**Bコース**の道のりは、どちらがどれだけ長いですか。答えを書きましょう。

- (2) だいすけさんたちは、午後1時50分に学校を出て午後3時10分にもどって来ました。学校を出て、もどってくるまでにかかった時間は、何時間何分ですか。



学校を出た時こく



学校にもどってきた時こく