

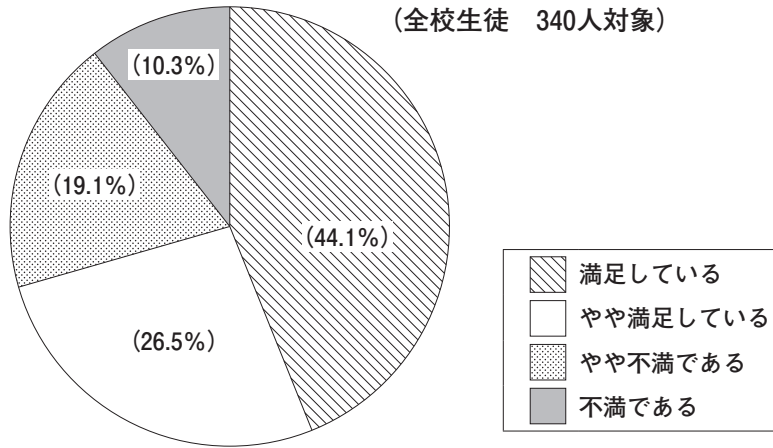
1

前田さんは、体育祭について、資料を示しながら全校生徒の前で話をします。次は、その【資料】と【話の内容】です。これらを読んで、あとの問いに答えなさい。

【資料】

昨年度の体育祭の満足度

(全校生徒 340人対象)



「やや不満である」または「不満である」と回答した人の学年別の割合

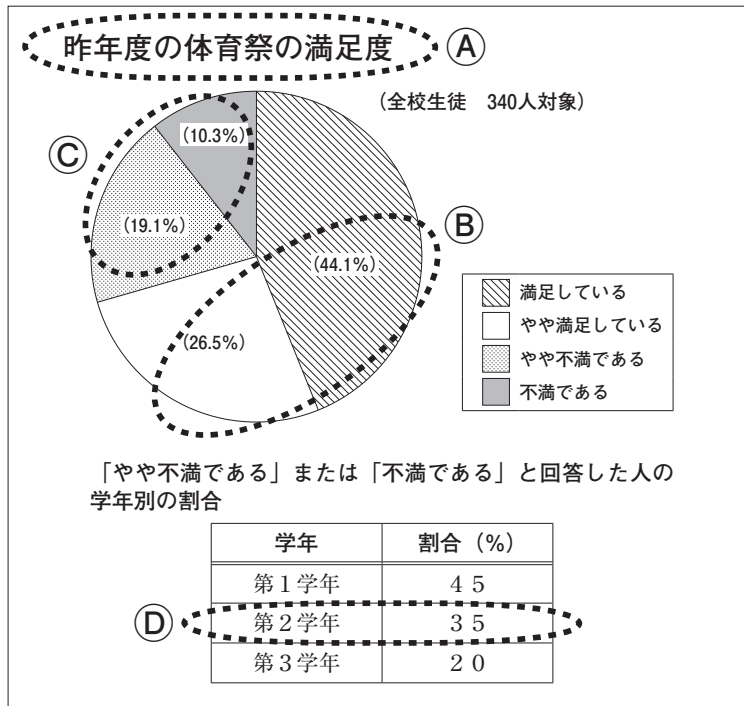
学年	割合 (%)
第1学年	45
第2学年	35
第3学年	20

【話の内容】

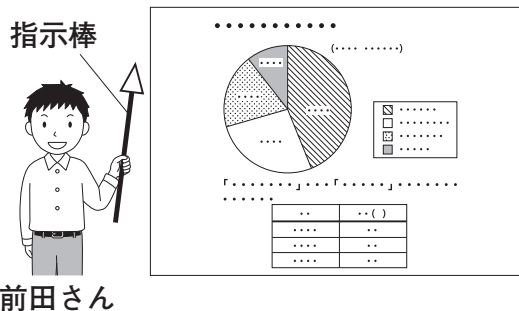
今年も、体育祭が近づいてきました。そこで今日は、昨年度行われた体育祭について話します。グラフを見てください。(ア) このグラフは、昨年度の体育祭の満足度を表しています。全校生徒の約七割の人が「満足している」、「やや満足している」と答えています。一方、「やや不満である」、「不満である」と答えた人は約三割いました。その学年別の割合は、下の表のようになります。(イ) 二、三年生に比べて、一年生は満足度が低いことが分かります。その理由として、「学級がうまくまとまらなかった」、「練習どおりにできなかった。」のような意見がありました。今年度は全学年の生徒が満足できるように、みんなを力合わせてがんばりましょう。(ウ) 最後に連絡です。本日、体育祭の実行委員会を行います。(エ) 実行委員は、放課後三年一組に集まってください。以上で終わります。

一 線部「全校生徒の約七割の人が『満足している』と答えています。一方、『やや不満である』、『不満である』と答えた人は約三割いました。」と説明するとき、【資料】の(A)から(D)までの、どこどこを、どのように指示棒で指したらいですか。次の1から4までのうち、最も適切なものを一つ選びなさい。

【資料】



- 1 (A)の範囲を指したあと、(B)の範囲を指す。
- 2 (B)の範囲を指したあと、(C)の範囲を指す。
- 3 (C)の範囲を指したあと、(D)の範囲を指す。
- 4 (D)の範囲を指したあと、(A)の範囲を指す。



二 前田さんは、話題が変わるところで大きく間を取って話そうと思います。【話の内容】の(A)から(E)までのどこで間を取ったらよいですか。最も適切なものを一つ選びなさい。