

1

あいりさんたちは、2026年度からブロッコリーが指定野菜に追加されることをニュースで知り、指定野菜について調べることにしました。


- x

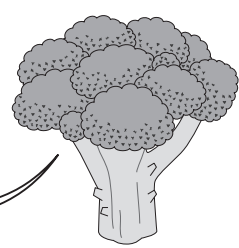
## ブロッコリーが指定野菜に追加！

---

指定野菜の追加は52年ぶりです。

現在の指定野菜

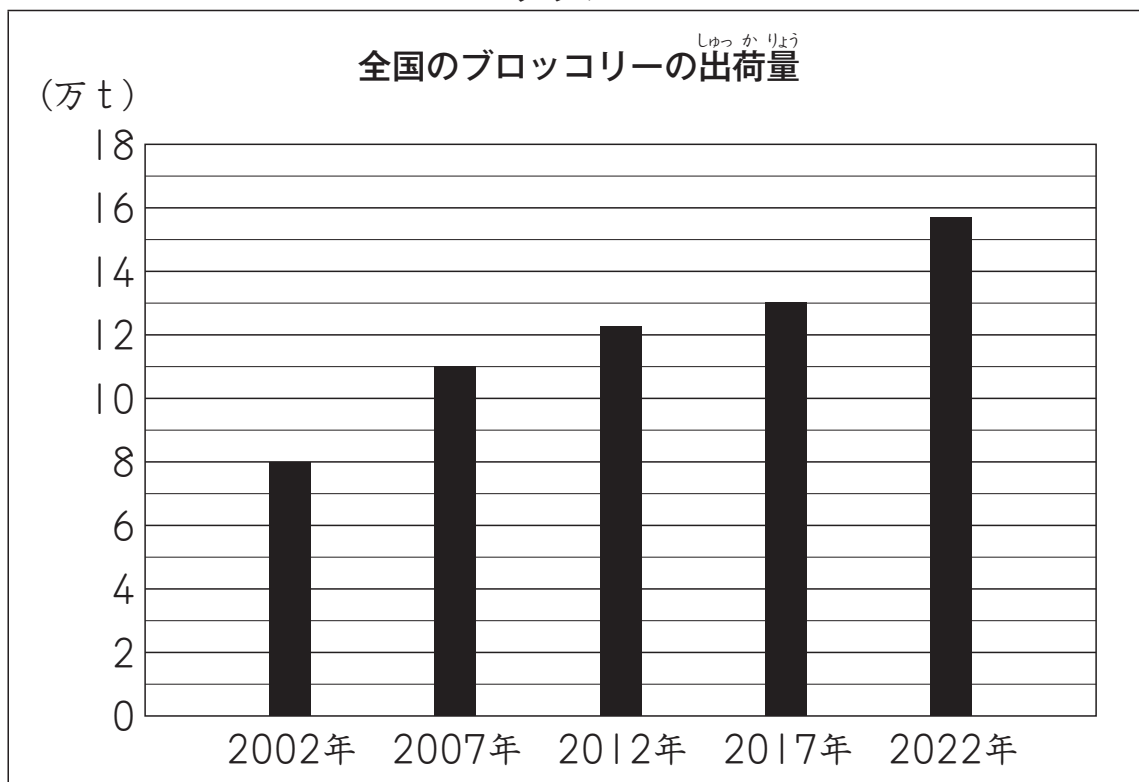




※ 指定野菜とは、消費量が多い野菜や多くなることが見込まれる野菜です。  
野菜の値段ねだんを安定させて、みんながいつでも野菜を食べられるように指定しています。

(1) あいりさんは、ブロッコリーについて調べていると、右のグラフ1を見つけました。

グラフ1



(作物統計調査による。)

グラフ1からわかることを、次のようにまとめます。

2022年の全国のブロッコリーの出荷量は、2002年の  
出荷量の約  倍になっています。

上のアに入る数を、下の1から4までの中から1つ選んで、その番号を書きましょう。

1 0.5

2 2

3 8

4 16