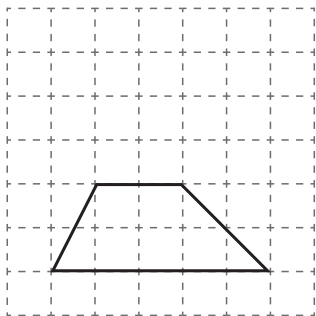
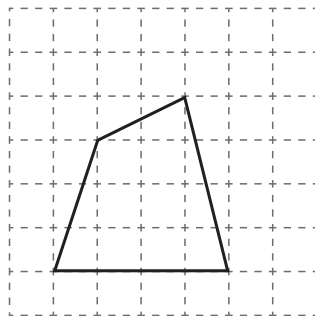


- (2) わかなさんは、方眼紙に下の **1** から **5** までの四角形をかきました。  
下の **1** から **5** までの中で、台形はどれですか。  
**3つ**選んで、その番号を書きましょう。

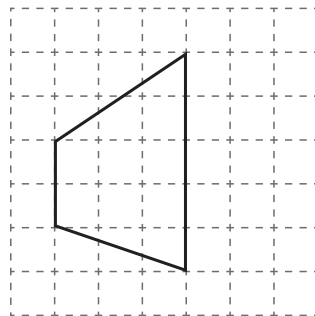
**1**



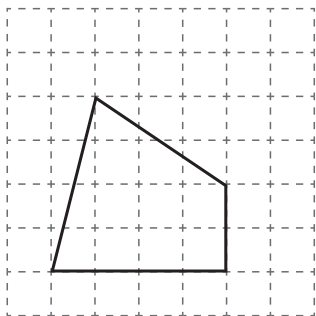
**2**



**3**



**4**



**5**

